

基隆市深美國民小學一一〇學年度第一學期四年級社會領域期末評量卷

班級：【 】座號：【 】姓名：【 】家長簽名【 】

命題者：王禹婷 命題範圍：康軒版四上社會 2-1、6-2；自編教材：基隆的建築與廟宇、戀戀田寮港、基隆交通、認識地圖

評量指標：觀察聚落的形成在於符合人類聚居生活的需求。					
評量等級	表現優異 (20格)	表現良好 (19-16格)	已經做到 (15-12格)	還要加油 (11-8格)	努力改進 (7-0格)
評定結果					

【基隆建築】

一、是非題 (對的打○，錯的打×)

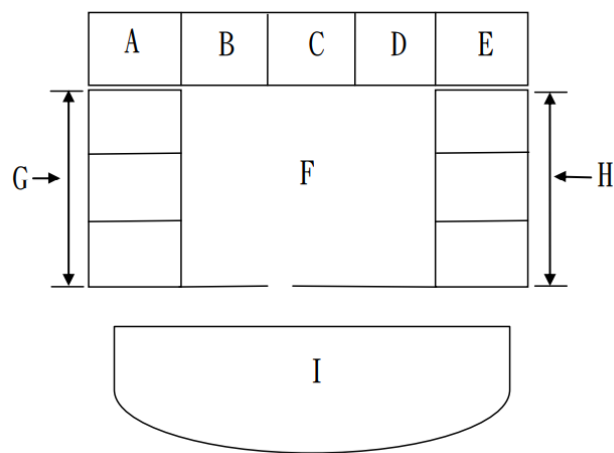
- () 1. 原住民及漢人傳統住屋大多都不是就地取材。
- () 2. 傳統三合院前方的水池，具有洗東西、養殖魚類、及滅火等功能。
- () 3. 石板屋、高腳屋都是早期漢人為了配合地形、氣候等環境特色，所發展出的建築形式。
- () 4. 傳統三合院是由正身、左護龍、右護龍組成的。
- () 5. 基隆目前沒有保存的三合院。

二、選擇題

- () 1. 下列何者不是建築高腳屋的原因？(①方便排水 ②避免蛇類入侵 ③方便製造堆肥 ④適應濕熱的天氣)
- () 2. 早期原住民及漢人建築房屋的材料，**不包含**下列哪一項？(①木頭 ②鋼筋水泥 ③茅草 ④磚瓦)
- () 3. 阿雯想要更了解關於原住民的傳統建築，她可以參觀下列哪一個地方？(①客家文化主題園區 ②新移民會館 ③原住民族文化園區 ④美國在臺協會)。
- () 4. 早期的原住民族，有些房屋比較低矮，是為什麼？(①防止蛇類入侵 ②防止強風 ③房屋比較好看 ④減少建材)
- () 5. 在早期三合院的建築，房間安排會依照傳統觀念中的哪一種原則來分配？(①以右為尊 ②以左為尊 ③以南為尊 ④以北為尊)

- () 6. 傳統三合院類型中，正身加左護龍為下列何者類型？(①三合院 ②一條龍 ③單伸手 ④雙伸手)
- () 7. 下列何者不是基隆三合院的歷史建築？(①許梓桑古厝 ②基隆要塞司令官邸 ③修竹居)
- () 8. 傳統三合院中，一條龍為下列何種字型？(①口 ②一 ③三 ④冂)

三、配合題



請根據上面的三合院平面圖，在 () 內填入正確的英文代號。

- 1. 神明廳位於 ()。
- 2. 右護龍位於 ()。
- 3. 稻埕位於 ()。
- 4. 水池位於 ()。
- 5. 廚房位於 ()。
- 6. 戶長的房間位於 ()。
- 7. 左護龍位於 ()。

評量指標：認識居住地方的古蹟或考古發掘，並欣賞地方民俗之美。

評量等級	表現優異 (24-23格)	表現良好 (22-19格)	已經做到 (18-14格)	還要加油 (13-9格)	努力改進 (8-0格)
評定結果					

【基隆廟宇】

四、是非題（對的打○，錯的打×）

- () 1. 人們興建廟宇沒有任何意義，只是因為建築特別。
- () 2. 基隆八斗子的福清宮中的「清」代表的是清朝的意思。
- () 3. 基隆的廟宇中全部的主神都是土地公。
- () 4. 基隆奠濟宮的故事跟漳泉械鬥有很大的關係。
- () 5. 慶安宮的主神為福德正神。

五、選擇題

- () 1. 基隆的廟宇中，主神帶著宰相官帽的為下列哪一間廟宇？(①慶安宮 ②奠濟宮 ③福清宮 ④城隍廟)
- () 2. 基隆的廟宇中，廟門口內側掛著大算盤的為下列哪一間廟宇？(①慶安宮 ②奠濟宮 ③福清宮 ④城隍廟)
- () 3. 基隆四大廟宇中，哪一間廟宇跟其他三間不是位於同一個行政區？(①慶安宮 ②奠濟宮 ③福清宮 ④城隍廟)
- () 4. 基隆四大廟宇中，有三間的主神是真的人，請問哪一間廟宇的主神不是真的人？(①慶安宮 ②奠濟宮 ③福清宮 ④城隍廟)
- () 5. 下列有關慶安宮的敘述，何者正確？(①主神頭戴宰相官帽 ②已經有三百多年的歷史 ③位於基隆中山區 ④歷史為沿海居民為求航海及漁撈順利)

六、連連看，將各廟宇連上正確的主神。

- | | |
|-----------------|---------------|
| 1. <u>慶安宮</u> · | · <u>媽祖</u> |
| 2. <u>奠濟宮</u> · | · <u>城隍爺</u> |
| 3. <u>城隍廟</u> · | · <u>開漳聖王</u> |
| 4. <u>福清宮</u> · | · <u>土地公</u> |

七、配合題。

(一)將正確的選項填入()內

A 城隍廟 B 奠濟宮 C 慶安宮 D 福清宮

1. 小宇:這間廟附近有間肯德基，對面是警察局---()
2. 小婷:這間廟在基隆八斗子，主神頭上戴著一個帽子---()
3. 小軒:從台北回來在海洋廣場下車的時候，都會看到對面有一間廟---()
4. 小宸:上次去基隆逛廟口時，在廟口裡面有看到一間廟---()

(二)珊珊將基隆的四大廟宇整理成表格的時候，不小心將咖啡打翻了，只有幾格沒被咖啡潑到，聰明的你請幫她完成剩下的表格。

主神原名: ㄅ陳元光將軍 ㄆ林默娘
ㄏ城隍爺 ㄐ張福德

歷史 1 祈求土地開發順利
2 漳州人的心靈寄託
3 賞善罰惡
4 祈求航海順利平安

	福清宮	城隍廟	慶安宮	奠濟宮
主神原名		ㄏ		
歷史			4	

評量指標：測量距離、閱讀地圖、使用符號繪製簡略平面地圖。

舉例說明在學習與工作中，可能與他人產生合作或競爭的關係

評量等級	表現優異 (24-23格)	表現良好 (22-19格)	已經做到 (18-14格)	還要加油 (13-9格)	努力改進 (8-0格)
評定結果					

【戀戀田寮港】

八、**圈圈看**：阿凱將基隆田寮河做了詳盡的介紹，請將正確答案圈起來：(答案可能不只一個)。

基隆田寮河起源於(槓子寮、剝皮寮)，古名為(田寮港、田寮港庄)，是台灣第一條人工運河。田寮河是由(中正區、信義區)流到仁愛區，再流到(中正區、信義區)最後注入(基隆港、淡水河)，從源頭至河口總長度約為3.5公里。

田寮河最初工程在劉銘傳巡撫任內進行，於日治時期才完成水道工程。早期的田寮河是一條負責運輸(伐木、金礦、煤礦)的運河，田寮河運輸的時期是(七十年代、清末日治時期)，而當時田寮河附近也被稱為(田寮港庄、田寮港)，田寮河流域一帶也曾經是日治時期的(政府機構、醫療機構)。


到了1980年，也就是(七十年代、清末日治時期)，配合交通運輸所需，陸陸續續蓋起了(十座、十二座)車行橋樑，而當時田寮河的管轄權也從(基隆市政府、港務局)的手中交給了(基隆市政府、港務局)，但當時的田寮河已經因為汙水排放日益嚴重，造成嚴重污染，而失去了運輸功能，轉型為親水景觀功能。

中華民國接管台灣後，田寮河的橋樑(由東向西、由西向東)也有了自己的名字，但當時橋名都是以四維八德為主，而在(許財利、李進勇)擔任市長的時候，因為有些橋都很老舊了，所以改建橋就順便改名，經由票選的方式，將橋名改成由十二生肖命名，命名者是在基隆居住的日本人(遲尉克明、遲尉真平)先生，第一座財鼠橋位於田寮河的(東邊、西邊)，而田寮河最後一座喜豬橋則是位於基隆田寮河的(東邊、西邊)，在2010年也新蓋了兩座橋，這兩座橋就是(吉羊橋、旺牛橋、銀蛇橋、玉兔橋、寶馬橋)。

【認識地圖】

九、選擇題

- () 1. 下列哪些屬於地圖四要素：A圖名 B設計者 C比例尺 D方向標 E圖例？(①ABCD ②ACDE ③BCDE ④ABDE)
- () 2. 當地圖中沒有出現方向標時，我們該如何讀地圖？(①以圖框的上方為北方 ②以圖框的下方為北方 ③以圖框的左方為北方 ④以圖框的右方為北方)
- () 3. 請問下圖哪一個方向為西方？(①上方 ②下方 ③左方 ④右方)



【加油，背面還有試題唷！】

評量指標：說出居住地方的交通狀況，並說明這些交通狀況與生活的關係。					
評量等級	表現優異 (20格)	表現良好 (19-16格)	已經做到 (15-12格)	還要加油 (11-8格)	努力改進 (7-0格)
評定結果					

【基隆的交通】

十、是非題：

- () 1. 基隆只有公車沒有客運。
- () 2. 如果想從基隆去到臺北可以搭市公車。
- () 3. 基隆大部分的市公車都是繞市區一圈再回到起始點。
- () 4. 從基隆市公車開頭的號碼，可以知道該公車以哪一個行政區為主要路線。
- () 5. 目前基隆已有捷運，可通往臺北。

十一、選擇題

- () 1. 小慶想從基隆火車站搭車到深美國小，請問哪一台公車無法到達深美國小？(①104 ②204 ③201 ④101)
- () 2. 老哈和家人規劃從基隆出發的客運之旅，下列哪一個縣市無法從基隆市直達？(①宜蘭縣 ②花蓮縣 ③南投縣 ④台中市)
- () 3. 下列何者不是基隆的大眾運輸？(①市公車 ②客運 ③火車 ④飛機)

十二、配合題：下列的基隆市公車，主要開往哪個行政區呢？請填英文代號。

- | | |
|-----------|-----------------|
| A 505 大武崙 | B 203 深澳坑 |
| C 601 四腳亭 | D 103 和平島(經祥豐街) |
| E 402 堵南里 | F 301 太白莊 |

- 1. 中正區：()
- 2. 信義區：()
- 3. 暖暖區：()
- 4. 七堵區：()
- 5. 安樂區：()
- 6. 中山區：()

十三、選擇題：看圖回答問題

國光客運：0800-010-138 基隆站：2422-2624 ※詳細班次資訊請洽各車站服務專線

1802

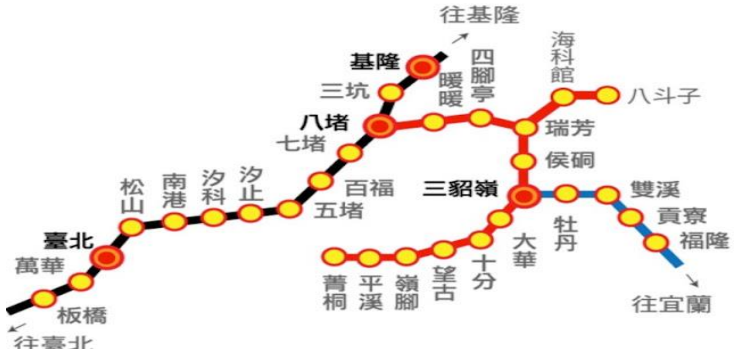
一、起迄點：基隆-三重
二、收費方式：里程計費
三、發車時間：固定班次

基隆-三重	三重-基隆
平日 05:55-22:30 假日 06:12-22:30 每兩15-25分鐘一班 經松山機場班次： 08:00/10:00/14:00/16:00 (總計4班)	平日 06:00-22:40 假日 06:10-22:40 每兩15-25分鐘一班 經松山機場班次： 09:15/15:15/17:15 (總計3班)

圖例說明：
● 起迄點 ● 捷運站 ● 雙邊設站 ● 單邊設站
● Keelung-Sanchong ● Fare Zones: Fare Table ● Headway: Fixed Time

1. Keelung Sta. (Kuo-Kuang) 2. Taipei Songshan Airport 3. Taipei Chang-Gung Memorial Hospital 4. MRT Songjiang Nanjing Sta. 5. Chengyuan High School 6. MRT Taipei Bridge Sta.

- () 1. 根據上圖，請問返程有幾個單邊設站？(①0 ②1 ③2 ④3)
- () 2. 根據上圖，請問這班客運的支線有經過哪裡？(①臺北長庚醫院 ②三重 ③松山機場 ④桃園機場)
- () 3. 根據上圖，請問這班客運從基隆到三重，假日的頭班車是幾點？(①05:55 ②06:00 ③06:10 ④06:12)



- () 4. 根據上圖，請問從臺北到福隆，要先在哪一個車站換車？(①七堵 ②八堵 ③暖暖 ④三坑)
- () 5. 根據上圖，請問從基隆搭到台北總共有幾站？(①9 ②10 ③11 ④12)
- () 6. 根據上圖，請問從松山到平溪中間需要換幾次車？(①0 ②1 ③2 ④3)

※恭喜你作答完畢，請檢查三次！