

基隆市深美國小 108 學年度上學期五年級社會領域期中評量卷

五年_____班 座號_____ 學生姓名_____ 家長簽名_____

命題範圍：康軒版五上社會教材 1-3 單元

出題老師：謝嘉璘老師

【臺灣在哪裡】

一、是非題（對的打○，錯的打×）

- () 1. 我們利用經緯線，可以明確標示地球上每一個地點的位置。0 度經線通過英國倫敦格林威治天文臺，0 度緯線是赤道。
- () 2. 臺灣本島是一個南北長，東西窄的島嶼。
- () 3. 大致而言，緯度愈高的地方，氣候愈炎熱；緯度愈低的地方，氣候愈寒冷。
- () 4. 北回歸線是北緯 23.5 度的緯線，一般當作副熱帶、熱帶的分界線。
- () 5. 臺灣的動植物種類較少，缺乏生機。

二、選擇題

- () 1. 國際上通常以什麼符號表示東經、西經？
(① E、S ② N、W ③ E、W ④ N、S)。
- () 2. 有關臺灣的敘述，下列哪一項是錯誤的？
(① 臺灣本島的經緯度位置約在北緯 22~25 度、東經 120~122 度之間 ② 臺灣地區指的是臺灣本島而已 ③ 臺灣的四周圍都是海洋 ④ 臺灣在中國大陸的東南方)。
- () 3. 下列對臺灣地區離島的相關敘述，何者正確？(① 臺灣地區共有三個離島 ② 臺灣地區的離島都位在臺灣本島南邊 ③ 臺灣地區目前不包括釣魚臺列嶼 ④ 金門、馬祖、澎湖都屬於臺灣地區)。
- () 4. 臺灣哪個地區設有北回歸線標誌？
(① 高雄市鳳山區 ② 基隆市中山區 ③ 新北市板橋區 ④ 嘉義縣水上鄉)。
- () 5. 關於緯度與氣候的關係，下列敘述何者錯誤？(① 緯度的高低，影響氣候的變化 ② 較高緯度的北極地區，終年寒冷 ③ 較低緯度的泰國 普吉島，四季炎熱 ④ 臺灣的氣候以赤道為界)。

三、配合題

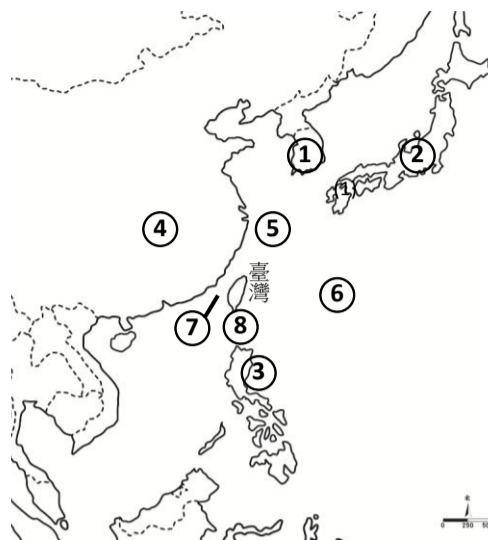
請觀察下列「臺灣地理位置圖」，寫出各代號所代表的國家、地區或海域名稱。（填代號）

◎國家、地區：

- ㄅ 日本 ㄆ 菲律賓 ㄇ 南韓（韓國）
- ㄊ 越南 ㄊ 俄羅斯 ㄋ 中國大陸

◎海域：

- A 太平洋 B 大西洋 C 臺灣海峽 D 巴士海峽
- E 東海 F 南海 G 印度洋



(一) 國家、地區

- ① () ② () ③ () ④ ()

(二) 海域

- ⑤ () ⑥ () ⑦ () ⑧ ()

利用地圖、數據、坐標和其它資訊，來描述和解釋地表事象及其空間組織。					
評量標準	表現優異	表現良好	已經做到	還要加油	努力改進
答對格數	18-17 格	16-15 格	14-12 格	11-8 格	7-0 格
評量結果					

【臺灣的地形與氣候】

一、配合題

下列是關於臺灣各種地形的描述，把正確的代號填入 () 中。

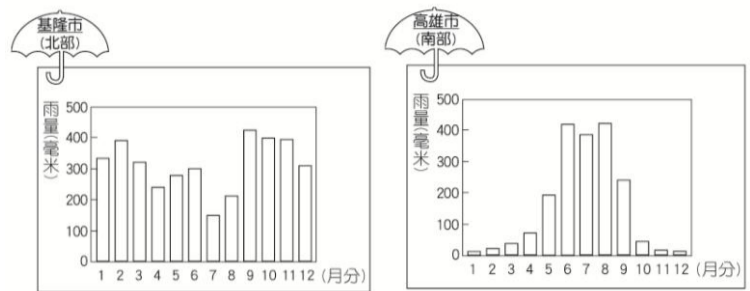
- A 山地 B 丘陵 C 台地 D 平原 E 盆地

- () 1. 海拔高度約在 100 公尺以下，表面平坦的地形。
- () 2. 海拔高度約在 100~1,000 公尺之間，坡度較緩的地形。
- () 3. 海拔高度約在 100 公尺以上，頂部平坦的高地。
- () 4. 四周高，中間低的地形。
- () 5. 海拔高度 1,000 公尺以上，地勢高峻，坡度陡峭的地形。

二、選擇題

- () 1. 小琳騎單車環島，目前所在地的地形「由河川沖積而成，四周廣闊低平，常可見到一片綠油油的水稻田」，下列哪一個地區最有可能是小琳目前的位置？(① 苗栗丘陵 ② 嘉南平原 ③ 林口台地 ④ 玉山山脈)

- () 2. 臺灣本島哪一種地形所涵蓋的範圍最大？(①台地 ②山地 ③平原 ④丘陵)。
- () 3. 教育部舉辦了國小學生繪畫比賽，題目是「畫我家鄉」，這時住在基隆和嘉義的同學，畫出來的作品可能有什麼不同？(①住在基隆的畫丘陵，住嘉義的畫平原 ②基隆的同學可能畫盆地，嘉義地區的同學可能畫台地 ③住基隆的同學會畫丘陵，住嘉義的同學會畫沙漠 ④住基隆的同學畫高山，住嘉義的同學會畫盆地)。
- () 4. 臺灣常發生地震，這與下列哪個原因最有關係？(①東北季風帶來的豐沛雨量 ②盛行於春、夏天的颱風季節 ③河流不斷侵蝕、堆積所導致 ④菲律賓海板塊與歐亞板塊推擠)。
- () 5. 臺灣本島的西部地區主要的地形沒有下列哪種？(①盆地 ②平原 ③山地 ④台地)。
- () 6. 早期蘭嶼的居民興建地下屋，主要是為了抵禦下列哪一種災害？(①地震 ②火山爆發 ③豪雨 ④強風)。
- () 7. 請問新竹縣 新埔鎮的農民利用當地氣候的哪種特性，將柿子製成柿餅？(①寒流的凍結 ②東北季風的吹拂 ③颱風的強力風勢 ④地熱的高溫)。



- () 2. 基隆冬天的雨量較高雄多，主要原因是受到什麼因素影響？(①西南季風帶來水氣 ②梅雨與颱風季節 ③火力發電廠排放二氧化碳 ④東北季風帶來水氣)。
- () 3. 根據圖表，請問下面哪個人最有可能是基隆人？(①小丁：「我來自一個陽光充足的好地方。」 ②小霖：「這裡整年都不下雨，常常缺水。」 ③小茜：「我家整年都很潮溼，衣服不容易曬乾。」 ④拉拉：「我住的地方夏天多雨，冬天卻很乾燥。」)。
- () 4. 高雄夏季雨量豐沛，可能受到哪些因素影響？(甲)颱風 (乙)地震 (丙)東北季風 (丁)西南季風 ①甲丙 ②甲丁 ③乙丙 ④乙丁)。

了解生活環境的地方差異，並能尊重及欣賞各地的不同特色。					
評量標準	表現優異	表現良好	已經做到	還要加油	努力改進
答對格數	16-15 格	14-13 格	12-10 格	9-6 格	5-0 格
評量結果					

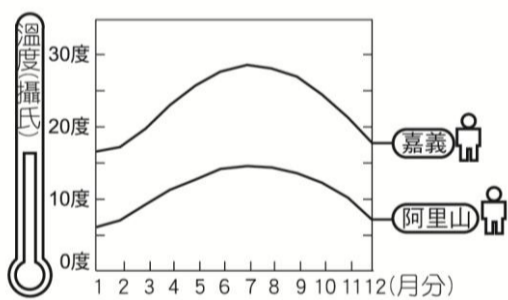
【臺灣的河川與海岸】

一、選擇題

- () 1. 臺灣的哪個離島是由珊瑚礁隆起所形成的？(①金門島 ②琉球嶼 (小琉球) ③龜山島 ④綠島)。
- () 2. 下列哪一個臺灣的離島位在臺灣東南方的太平洋上，並擁有豐富的海洋觀光資源？(①馬祖列島 ②金門島 ③澎湖群島 ④蘭嶼)。
- () 3. 阿廷和同學分享暑假時前往臺灣北部離島遊玩的照片，其中一張是爸爸幫他拍到搭乘賞鯨船時遇到飛旋海豚出沒，與船外的飛旋海豚身影合照。請問，阿廷前往的島嶼可能是哪一個？(①金門島 ②龜山島 ③馬祖列島 ④蘭嶼)。
- () 4. 下列哪一個是沙洲與陸地之間的海域，其內風平浪靜，適合發展養殖漁業？(①斷崖 ②瀉湖 ③港口 ④珊瑚礁)。
- () 5. 依照臺灣東、南、西、北各地海岸的特色，判斷下列各縣市的地理位置，哪一處的港灣適合開發成商港和漁港？(①屏東縣 ②臺東縣 ③基隆市 ④南投縣)。

三、看圖回答問題

- (一) 觀察「阿里山、嘉義市各月平均氣溫圖」，下列哪一個敘述是正確的？



- () 1. ①阿里山的氣溫每個月都比嘉義市低，是因為阿里山的緯度比較高的原因 ②阿里山的氣溫每個月都比嘉義市低，是因為阿里山的人口比嘉義市多 ③阿里山每個月平均氣溫都比嘉義市低，主要原因是阿里山的地勢比嘉義市要高很多 ④由此圖可知阿里山的年溫差比嘉義市要大。
- (二) 觀察「基隆市及高雄市的雨量圖」，回答下列問題。

二、配合題

(一) 下列哪些屬於臺灣河川的特性？請在正確的□中打✓。

- 受到山勢陡峭的因素影響，呈現出長度短、坡度陡等特性。
- 受到山地高度低，平原廣大影響，河水流速慢，河川長度長。
- 主要河川大多發源於中央山地，河川大多呈東西流向。
- 濁水溪是東部著名的河川，流入太平洋。
- 河川一整年流量都維持穩定狀況。

(二) 下列有關臺灣河川的敘述，請在正確的□中打✓。

- 臺灣河川主要提供民生用水、工業用水和灌溉用水，相當重要。
- 臺灣水庫應該都集中在下游，才能方便民眾取水。
- 工廠可以將工業廢水直接排入河川，顯見河川對臺灣工業的重要性。
- 水庫只有儲水功能沒有其他用途。
- 由於人們在河川舉辦龍舟、泛舟、溯溪等活動，讓河川也具備了休閒觀光的功能。

(三) 請分辨地圖中各海岸分別具有哪些特色，以代號(甲、乙、丙、丁)填入對應的海岸類型中：



- 海水清澈，珊瑚礁發達：()
- 曲折多灣，有許多奇怪岩石：()
- 海岸筆直，斷崖連綿：()
- 海岸線平直，沙洲與潟湖遍布：()

舉例說明地方或區域環境變遷所引發的環境破壞，並提因應出可能的解決方法。					
評量標準	表現優異	表現良好	已經做到	還要加油	努力改進
答對格數	19-18 格	17-16 格	15-13 格	12-9 格	8-0 格
評量結果					

【生活中的規範】

一、是非題

- () 1. 我們應該尊重各個社會的規範，以免做出失禮的事。
- () 2. 有時法律無法因應時代變遷，我們可以透過陳情或民意代表建議來修訂法律。
- () 3. 所有的宗教信仰對於信徒所規定的戒律都是一樣的。
- () 4. 所有的社會規範都具有一定的強制力，不遵守的話會受到處罰。

二、選擇題

- () 1. 下列哪一種社會規範具有強制力？
(①風俗習慣 ②宗教信仰 ③法律 ④倫理道德)。
- () 2. 雖然現代是一個重視自由的社會，但我們還是必須注意到下列何者？
(①只重視個人權益 ②不該損害他人權益 ③破壞社會秩序 ④以上皆是)。
- () 3. 「騎乘機車未戴安全帽」，雖未構成犯罪，但是有可能會遭到罰款，最主要的原因為何？
(①增加市容美觀 ②減少機車數量 ③減少空氣汙染 ④保護騎士安全)。
- () 4. 法律明確的規定犯罪行為與違反法律的處罰，是為了什麼目的？
(①維護公共秩序 ②保障人民權利 ③確保社會安寧 ④以上皆是)。

三、配合題

下列各項敘述分別是哪一種社會規範？請選擇正確的代號，填入()中。

- | | |
|--------|--------|
| A 風俗習慣 | B 倫理道德 |
| C 宗教信仰 | D 法律 |

- () 為了一時的方便而在路邊並排停車。
- () 孝敬父母，友愛同學。
- () 伊斯蘭教的信徒遵守可蘭經的戒律，反對暴力行為，每天禮拜五次。
- () 在日本參加婚宴時，會使用白色的禮金袋來送禮金。
- () 全家人在中秋節一起吃月餅、賞月。
- () 警察逮捕販售盜版光碟的犯罪者，並由法院裁定處以適當的懲罰或制裁。

瞭解並遵守生活中的基本規範。					
評量標準	表現優異	表現良好	已經做到	還要加油	努力改進
答對格數	14-13 格	12-11 格	10-8 格	7-5 格	4-0 格
評量結果					

※ 恭喜你作答完畢，請檢查三次！