

基隆市深美國小 113 學年度第一學期 二年級數學領域 期末評量卷

版本與範圍：康軒版第三冊第六～十單元 命題老師：連麗雅

班級：

座號：

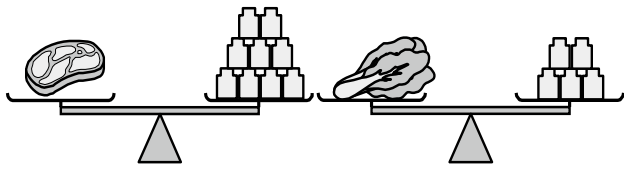
姓名：

家長簽名：

認識容量、容器及經驗液量保留概念，進行直接比較、間接比較和個別單位比較。				
表現優異 對 9 格	表現良好 對 8-7 格	已經做到 對 6-5 格	還要加油 對 4-3 格	努力改進 對 2-1 格

一、看圖回答問題。

1.



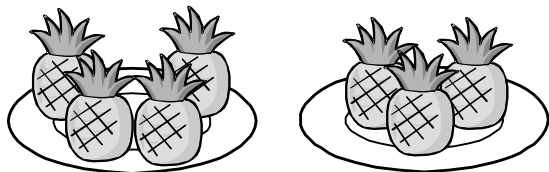
(1) 和 () 個 一樣重。

(2) 和 () 個 一樣重。

(3) 哪一個物品比較重？

()

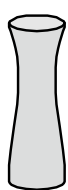

2. 哪一邊東西比較重？在 () 裡打√。



()

()

3. 哪一個容器可以裝的水比較多？在 () 裡打√





()

()

()

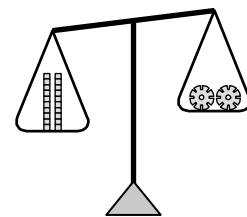
4. 最重的在 () 中打√，最輕的畫○。



() () ()

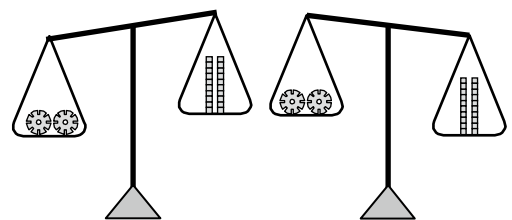


5. 把圖中左右兩邊的東西交換位置後，甲和乙哪個圖是正確的？在 () 裡打√。



甲

乙



()


()

【已經完成一面囉！】

能使用上午、中午、下午和晚上來報讀鐘面上的時刻，並點數兩個時刻之間經過的時間。

表現優異 對13-12格	表現良好 對11-9格	已經做到 對8-6格	還要加油 對5-4格	努力改進 對3-1格

一、連連看，把時間相同的連起來。(每題3格)



3:25

7:47

11:00

二、看圖回答問題。(每題1格)

1. 哪一個鐘面是12時30分?

在 裡打√。





2. 現在是幾時幾分? 在 打√。



8時5分

8時1分

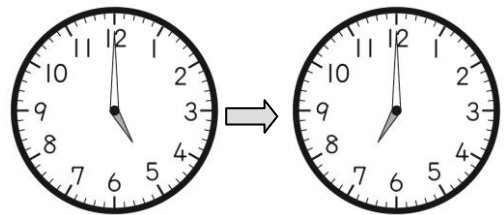
三、看鐘面填填看。(每題5格)



現在是()時()分，分針再走3大格，表示經過()分鐘，是()時()分。

四、填填看。(每題1格)

1. 小思下午5時去上舞蹈課，到下午7時結束，共經過了()小時。



2. 小晨在下午4時到家，經過2小時後全家要吃晚餐，全家用餐時間是下午()時()分。



【加油！還有兩個面喔！】




能解決 200 以內的二位數加減法兩步驟問題。

表現優異	表現良好	已經做到	還要加油	努力改進
對 25-22 格	對 21-18 格	對 17-14 格	對 13-9 格	對 9-1 格

一、先算什麼？再算什麼？

寫出做法和答案。（每題 5 格）

1. 小如買一把剪刀、一個釘書機和一個橡皮擦，共花了多少元？

		
剪刀	釘書機	橡皮擦
33 元	45 元	18 元

2. 飲料店準備 84 瓶飲料，上午賣出 25 瓶，下午又賣出 17 瓶，還剩下幾瓶飲料？

3. 一張新年賀卡賣 36 元，小雯買了 3 張，一共要付幾元？

4. 捷運車廂裡原有 56 個人，到站後有 19 個人下車，27 個人上車，現在車廂裡有幾個人？

5. 架上原有 54 顆網球，棒球比網球多 23 顆，桌球比棒球多 69 顆，架上有幾顆桌球？


【加油！還有剩一面喔！】

能以連加的計算成乘法的答案，使用乘法算式記錄問題，並熟練乘法表的乘法計算。

表現優異	表現良好	已經做到	還要加油	努力改進
對17-15格	對14-12格	對11-9格	對8-5格	對4-1格

一、用加法算式記錄問題，再回答。(每題2格)


1. 一輛汽車有4個輪子，5輛汽車共有幾個輪子？



用連加法算式記錄問題：

答：_____

2. 小雅買了5串烤丸子，一共有幾個丸子？



用連加法算式記錄問題：

答：_____

二、選擇題。(每題1格)

() 1. 3個一數：3-6-9-□，□

中應該填入什麼數？

①10 ②11 ③12 ④13

() 2. 「 9×8 」比「 9×6 」多幾個9？

①18 ②2 ③4 ④14。

三、用乘法算式記錄問題。(每題3格)

1. 小潔買了6顆茶葉蛋，每顆茶葉蛋賣7元，她共要付多少元？

2. 公寓每層住8戶人家，4層樓的公寓共住幾戶人家？

四、把正確的答案連起來。(每題1格)

$2+2+2+2+2$ ● ● 7的5倍

$3+3+3+3$ ● ● 2有5個

$4+4+4$ ● ● 5×3

$5+5+5$ ● ● 3×4

$7+7+7+7+7$ ● ● 有3個4

恭喜你完成所有題目！請再仔細檢查答案！