

基隆市深美國小 112 年度上學期二年級 數學領域 期末評量卷

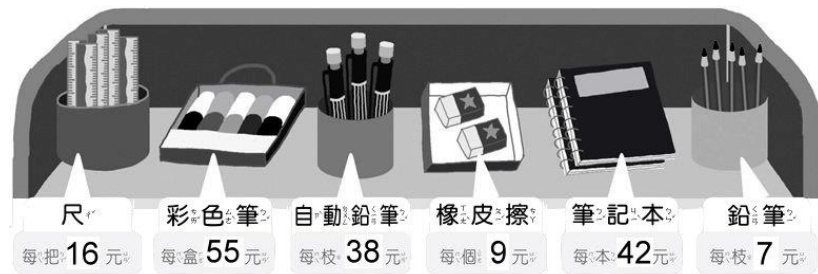
版本與範圍：康軒，第六~十單元 年 班 號 姓名： 家長簽名：

能解決 200 以內的二位數加減法兩步驟問題。

評量標準	表現優異	表現良好	已經做到	還要加油	努力改進
答對格數	25-23	22-19	18-15	14-11	10 以下
評量結果					

一、先算什麼？再算什麼？

請看圖，寫出算式做做看。



1. 小深在文具店買了 1 枝自動鉛筆、1 把尺和 1 塊橡皮擦，一共花了多少元？

答：()元

2. 小美有 69 元，買了 1 本筆記本和 1 枝鉛筆，還剩下多少元？

答：()元

3. 小飛原有 33 元，爸爸拿 60 元給他買 1 盒彩色筆，找回的錢給小飛，小飛現在有多少元？

答：()元

二、先算什麼？再算什麼？

寫出做法和答案。(每題 5 格)

1. 雨陽廣場原來有 38 個人在逛書展，19 個人離開後，又有 57 個人來逛書展，現在有幾個人在逛書展？

答：()個

2. 書展的桌上有 45 本立體書，漫畫書比立體書多 28 本，故事書比漫畫書多 61 本，桌上的故事書有幾本？

答：()本

能以連加的計算成乘法的答案，使用乘法算式記錄問題，並熟練乘法表的乘法計算。

評量標準	表現優異	表現良好	已經做到	還要加油	努力改進
答對格數	21-19	18-16	15-13	12-10	9 以下
評量結果					

一、寫出連加算式做做看，再回答問題。(算式 2 格)

1. 一個人要戴 2 隻手套，午晚餐服務隊有 3 個人，要戴幾隻手套？



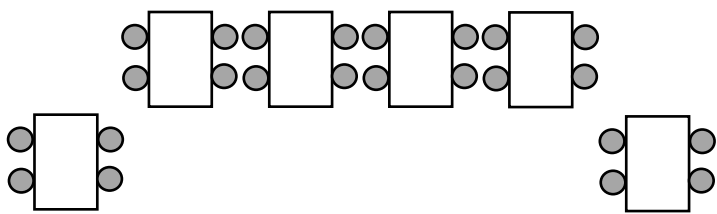
連加算式：

乘法算式：

答：() 隻

() 1-1 上面算式中 2 是什麼？
 ① 每隊有 2 個人
 ② 每人戴 2 隻手套
 ③ 一共共有 2 隻手套。

2. B 班分成 6 個組別，每一個組別有 4 位學生，B 班總共有幾位學生？



連加算式：

乘法算式：

答：() 位

() 2-1 上面算式中 6 是什麼？
 ① B 班分成 6 個組別
 ② B 班總共有 6 位學生
 ③ 每一組有 6 位學生。

二、寫出乘法算式做做看

1. 一盒柿餅有 8 個，小真老師幫 6 個班各買了一盒，總共是買了幾個柿餅？

乘法算式：

答：() 個

2. 多多語文競賽時，B 班站在舞台上，每排站了 7 個人，共排了 4 排，請問 B 班有幾個個人？

乘法算式：

答：() 個

三、誰出的題目和答案都是正確的？在 裡打 。

小雪：一串丸子有 5 顆，7 串共有幾顆丸子？
 答：35 顆。

小可：桌上有 6 盤橘子，每盤有 3 個，共有幾個橘子？
 答：19 個。

小愛：每一包糖果有 8 顆，6 包共有幾顆糖果？
 答：48 顆。

能使用上午、中午、下午和晚上來報讀鐘面上的時刻，並點數兩個時刻之間經過的時間。

評量標準	表現優異	表現良好	已經做到	還要加油	努力改進
答對格數	16-15	14-13	12-11	10-9	8 以下
評量結果					

一、對的畫○，錯的畫×。

() ① 60 分鐘和 1 小時一樣

長。

() ② 分針走了 1 大格，是走了

了 10 分鐘

() ③ 10 點半也可以說是 10

時 30 分。

() ④ 分針轉了 2 圈，表示經過

過了 120 分鐘。

() ⑤ 3 時 50 分的數字鐘面會

顯示 3:05。

二、看圖填填看。

1.



() 時 () 分

2.



() 時 () 分

3.



() 時 () 分

4.



() 時 () 分

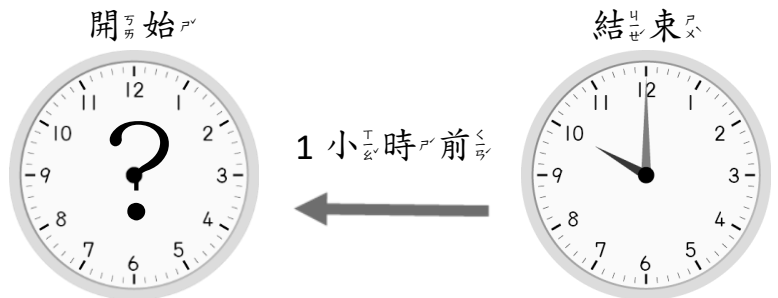
三、看圖填填看

1. 小聰上足球課，每堂課要

上 1 小時，結束時是上午 10

時，足球課是在上午 () 時

開始。



2. 小明和家人去下午茶，

用餐時間是 2 小時，他們從

下午 3 時開始吃，下午茶在

下午 () 時結束。



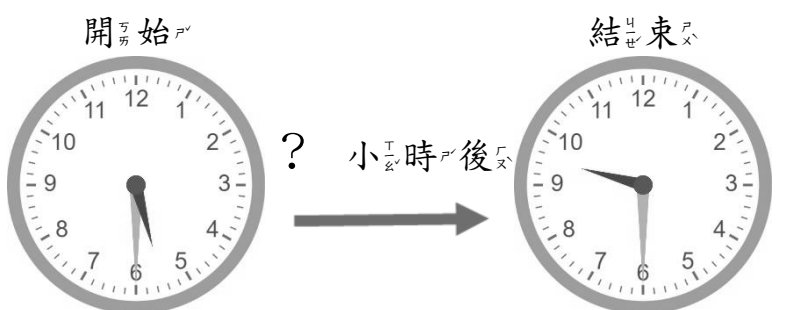
3. 小閃寒假要去台南玩，他

從台北轉運站搭客運到台

南，從下午 5 時 30 分出發，


到晚上 9 時 30 分到達，請問

他搭乘客運花了 () 小時。



認識容量、容器及經驗液量保留概念，進行直接比較、間接比較和個別單位比較。					
評量標準	表現優異	表現良好	已經做到	還要加油	努力改進
答對格數	14	13-12	11-10	9-8	7以下
評量結果					

一、看圖填填看：





① 一顆蘋果和 () 個罐一樣重。

② 一隻豬和 () 個罐一樣重。

③ 蘋果再加上 () 個罐，就會和豬一樣重。

④ 如果把蘋果和豬放到天平上，下列哪一個圖是正確的？請在 () 中打✓

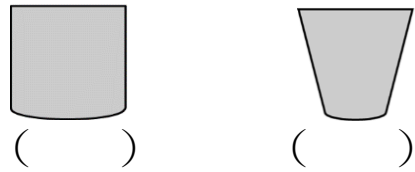


請由重到輕，在 () 中寫上

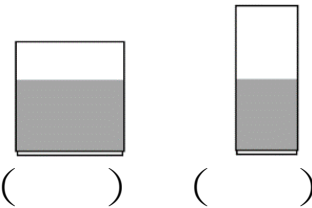
1、2、3。



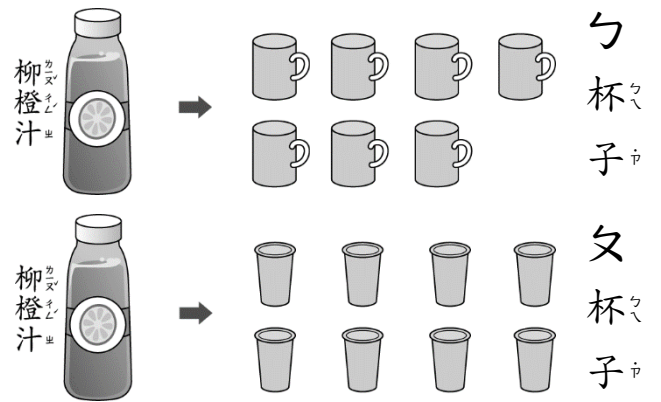
3. 哪一個杯子的容量比較大？請在 () 裡打✓



4. 哪一杯的水量比較多？請在 () 裡打✓

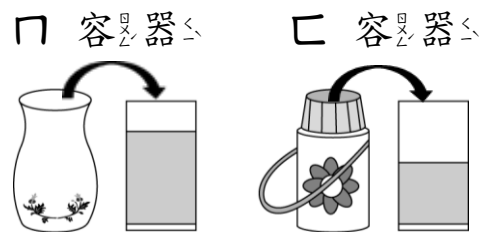


5. 把兩瓶一樣大的柳橙汁，分別倒入、及兩種杯子里。哪一種的杯子容量比較大？



★ 答： () 杯子的容量比較大。

6. 把□、□兩個容器，分別倒入兩個容量相同的杯子里。請問哪一個容器的容量比較大？



★ 答： () 容器的容量比較大。

命題老師：潘宛妍