

基隆市深美國小 112 學年度第一學期五年級社會學習領域期中評量卷

五年_____班 座號_____ 學生姓名_____ 家長簽名_____

命題範圍：翰林版第九冊 1-1 至 3-1 命題老師：蔡玉茹老師

理解荷蘭人、西班牙人統治臺灣的過程和影響，並了解臺灣轉變成漢人社會的原因。					
評量標準	表現優異	表現良好	已經做到	還要加油	努力改進
答對格數	28-27	26-23	22-19	18-15	14以下
評量結果					

一、選擇題：

() 1. 四百多年前，據說顏思齊和誰等人發現臺灣值得開發，便招募漢人來臺在今日的雲林、嘉義一帶開墾。

(①鄭經 ②鄭成功 ③鄭芝龍)

() 2. 荷蘭人於西元 1624 年以武力占領臺灣，將哪裡作為擴展貿易的根據地？

(①臺南 ②基隆 ③淡水)

() 3. 大航海時代，歐洲國家憑藉航海技術進步，透過新航路到亞洲尋找哪些物品？甲、香料 乙、蔗糖 丙、茶葉 丁、瓷器 (①甲乙 ②乙丙 ③甲丁)

() 4. 四百多年前，臺灣當時除了有原住民，還有漁民及來自中國和日本的海商會來臺活動，當時進行的互動有哪些？甲、躲避風浪 乙、貿易 丙、交換物品 丁、進行開墾 (①甲乙丙 ②乙丙丁 ③甲丙丁)

() 5. 臺灣成為荷蘭、西班牙等國勢力競逐的對象，原因是位於哪個貿易圈中心？ (①南亞 ②西亞 ③東亞)

() 6. 荷蘭先在臺灣建立熱蘭遮城作為行政及貿易中心，再興建普羅民遮城擴展交易。熱蘭遮城是指今日的哪個地方？

(①赤崁樓 ②億載金城 ③安平古堡)

() 7. 荷蘭人佔領臺灣時曾經招募漢人來臺開墾，提供哪些物品提高效率？甲、土地 乙、外來種子 丙、耕牛 丁、農具

(①甲乙 ②乙丙 ③丙丁)

() 8. 基隆和平島有座教堂遺址，依照佔領區域來看，這應該是哪個國家的人在臺灣開拓留下的證據？ (①法國 ②荷蘭 ③西班牙)

() 9. 在臺灣積極推教育事業，並興建第一座孔廟及設立學校的是誰？ (①西班牙人 ②鄭氏政權 ③荷蘭人)

() 10. 大航海時代，該國傳教士為了在臺灣傳教，除了設立教堂，還學習原住民語言，並用羅馬字母拼寫他們的語言，該國指的是哪個國家？ (①西班牙 ②葡萄牙 ③荷蘭)

() 11. 小臻觀察地圖，發現臺南有許多奇特的地名，如新營、柳營、林鳳營，這些地名都和下列何者有關？ (①軍隊開墾 ②地形特色 ③原住民族)

() 12. 下列哪一項不是荷蘭人引進臺灣的國外農作物？ (①辣椒 ②胡蘿蔔 ③豌豆)

() 13. 大航海時代歐洲國家認為臺灣是一個理想貿易據點的原因是什麼？ (①位於航運要道 ②資源豐富 ③人口眾多)

二、下列敘述與荷蘭人有關的填A，與西班牙人有關的填B：

() 1. 來臺之前，先在菲律賓設立據點

() 2. 來臺之前，先在印尼設立據點

() 3. 西元1626年派兵進入臺灣北部，在今日基隆、淡水等地建立城堡

() 4. 興建今日的赤崁樓作為擴展貿易

() 5. 在臺期間，先用武力征服原住民，再授予歸順的原住民長老維持秩序的權力

() 6. 引進高麗菜等農作物

() 7. 興建教堂，傳播天主教

三、下列關於鄭氏政權在臺灣的活動，請將正確的敘述打✓：

- () 1. 透過海上貿易，賺取利益並換取戰爭物資。
- () 2. 傳播基督教。
- () 3. 推廣漢人文化，阻斷原住民文化傳承。
- () 4. 設立教堂，培育人才管理地方。
- () 5. 奠定漢人社會文化的基礎。
- () 6. 建立廟宇，傳入媽祖、玄天上帝等信仰。
- () 7. 因渡臺禁令，來臺漢人移民人數大減。
- () 8. 治臺期間，發行錢幣。

解析清帝國渡台禁令、民變與械鬥、現代化建設的成因與影響，並了解外國傳教士在臺傳教帶來的影響。					
評量標準	表現優異	表現良好	已經做到	還要加油	努力改進
答對格數	41-40	3-34	3-28	2-21	20以下
評量結果					

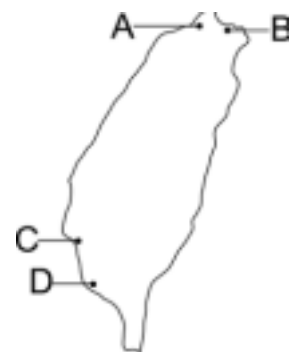
一、選擇題：

- () 1. 移民到臺灣的漢人，不同群體監會因為哪些原因而發生集體衝突的械鬥事件？甲、官員貪污 乙、保護土地 丙、爭奪水源 丁、追求利益 (①甲乙丙 ②乙丙丁 ③甲丙丁)
- () 2. 清帝國治理臺灣初期，有哪些治臺政策？甲、鼓勵人民來臺 乙、頒布渡臺禁令 丙、全家需先申請渡臺證照 丁、出入臺灣需要驗票 戊、設立臺灣府負責全臺各項事務 (①甲乙丙 ②丙丁戊 ③乙丁戊)
- () 3. 清帝國初期，群眾集體反抗政府的事件頻傳，這樣的事件稱之為 (①民變 ②械鬥 ③鬥毆)

- () 4. 清帝國統治初期，設立一府三縣來管理及處理臺灣各項事務，其中三縣不**包含**下列哪一個？(①諸羅縣 ②鳳山縣 ③新竹縣)
- () 5. 清帝國派遣沈葆楨來臺和下列哪個事件有關？(①林爽文事件 ②牡丹社事件 ③戴潮春事件)
- () 6. 清帝國時期開放對外通商港口，下列哪個港口的**古今地名配對錯誤**？(①臺南→安平 ②雞籠→基隆 ③打狗→高雄)
- () 7. 西元1860年代，清帝國開放對外通商港口的原因是什麼？(①清帝國希望透過海上貿易賺取經濟利益 ②希望換取其他國家的物資 ③西方國家不斷給予壓力)
- () 8. 西元1860年代，清帝國開放對外通商港口後，下列哪些敘述是正確的？甲、臺灣從歐美國家進口紡織品和茶葉 乙、因為茶葉和蔗糖，臺灣經濟重心開始北移 丙、港口成為臺灣人接觸西方文化的窗口 丁、外國人在通商港口設立洋行 (①甲乙 ②乙丙 ③丙丁)

二、看圖回答問題：

1. 西元1860年代，清帝國開放臺灣的通商港口，請看地圖填入**當時正確的地名**。



- A→()
- B→()
- C→()
- D→()

2. 承上題，當時臺灣將哪些物品**外銷**到歐美國家呢？正確的請打✓：

- () 1. 紡織品 () 5. 茶葉
- () 2. 蔗糖 () 6. 稻米
- () 3. 鹿皮 () 7. 樟腦
- () 4. 鴉片

三、清帝國後期因外來挑戰，促使清帝國加強對臺灣的建設，先後派遣沈葆楨和劉銘傳來臺推動新政。下列敘述與沈葆楨有關的填A，與劉銘傳有關的填B：

- () 1.廢除渡臺限制。
- () 2.在臺南興建第一座西式砲臺。
- () 3.臺灣建省後首任巡撫。
- () 4.興建恆春城，加強軍事防禦。
- () 5.清法戰爭時被派遣來臺作戰。
- () 6.修築基隆到新竹間的鐵路。
- () 7.架設電報通訊、辦西式學校。

四、清帝國後期，允許外國人到臺從事商業、調查研究等活動。下列敘述分別是什麼人在臺灣發展的事蹟，請填入正確的代號：

A.馬雅各 B.斯文豪 C.馬偕 D.湯姆生

- () 1.發現臺灣許多新物種。
- () 2.創辦理學堂大書院
- () 3.免費幫人拔牙。
- () 4.興建全台第一座西式醫館。
- () 5.用相機記錄平埔族群與打狗港。
- () 6.深入山林調查鳥料及蛙類，發表多篇研究報告。
- () 7.在臺灣南部傳教。
- () 8.設立淡水女學堂。

五、清帝國後期，許多外國人到臺灣從事一些活動，下列哪些是西方人來臺所帶來的影響？正確的請打✓：

- () 1.因為將醫療和教育結合，人們開始相信西醫及福音。
- () 2.增長人們在醫療及公共衛生方面的知識。
- () 3.讓女性也有受教育的機會。
- () 4.外國人士傳授四書五經，使得西方文化逐漸被大眾所了解。
- () 5.發現臺灣更多新的物種。

() 6.留下臺灣早期珍貴的人文與景點的樣貌。

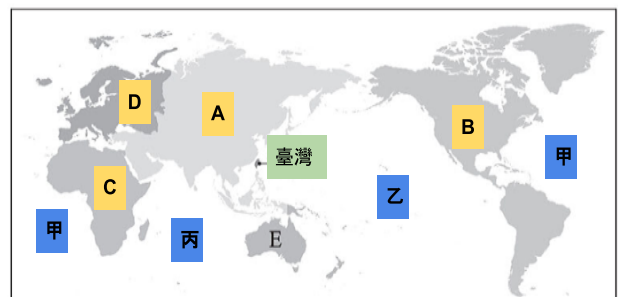
() 7.修築鐵路，讓交通更加便利。

透過世界地圖認識臺灣海陸位置。					
評量標準	表現優異	表現良好	已經做到	還要加油	努力改進
答對格數	23-22	21-19	18-16	15-12	11以下
評量結果					

一、關於臺灣的地理位置，下列哪些敘述是正確的？正確的請打✓：

- () 1.臺灣位在美洲東側，大西洋西側。
- () 2.四面環海，位置適中。
- () 3.歷史文化深受中國及越南影響。
- () 4.位於最大陸地與海洋交會帶上。
- () 5.臺灣北邊隔著巴士海峽和菲律賓相望。
- () 6.臺灣的東邊是東海，再往北就是韓國、日本。
- () 7.清帝國前期有許多沿海地帶的人冒險渡過黑水溝來臺。所謂的「黑水溝」指的是太平洋。

二、請依據臺灣的地理位置判斷，填入正確的洲別和海洋。



- A→() 甲→()
- B→() 乙→()
- C→() 丙→()
- D→()
- E→()

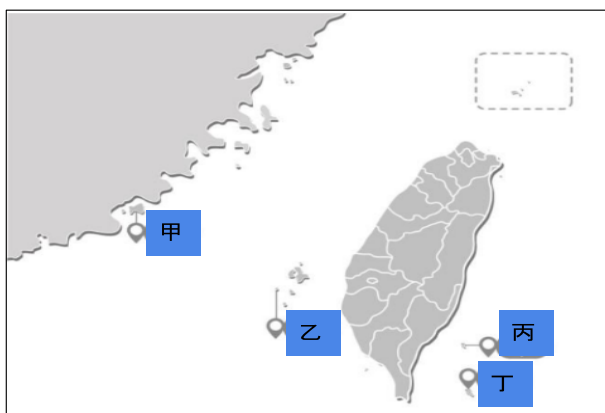
三、臺灣周圍有許多離島，請依下列敘述，判斷相關說明是屬於哪個離島？填入該離島的地圖位置代號及正確名稱。

說明1：位於臺灣本島東南方，島上的雅美族(達悟族)是典型的海洋民族。當地的特色有飛魚季、頭髮舞、拼板舟。

說明2：位於臺灣本島西方，島上著名的戰地坑道為因應當時戰爭所需而開挖。

說明3：位於臺灣本島西南方，擁有年產值相當高的箱網養殖漁業，每年4-6月期間有熱鬧的花火節。

說明4：位於臺灣本島東南方，許多人會從海外特地飛來這裡潛水，是潛水客熱愛的國際級的潛水天堂。



說明	地圖位置 (請填代號)	離島名稱
1		
2		
3		
4		

試題結束，請用心作答。