

基隆市深美國小 112 學年度上學期三年級社會領域期中評量卷

◎版本與範圍：康軒版 3-1 班級自治活動、自編教材：家庭生活、認識社區及地圖 ◎命題教師：辜立群

三年____班 座號：_____ 姓名：_____ 家長簽名：_____

| | | | | | |
|--|--------|--------|--------|-------|------|
| 了解班級自治的意義，明瞭班級公約的產生方式及重要性，培養民主生活應有的態度。 | | | | | |
| 評量標準 | 表現優異 | 表現良好 | 已經做到 | 還要加油 | 努力改進 |
| 答對格數 | 18-17格 | 16~14格 | 13~11格 | 10~7格 | 6格以下 |
| 評量結果 | | | | | |

一、是非題(對的畫○，錯的打×)：

- () 班級自治是由班上同學自己管理班級的業務。
- () 經由班會討論的提案，如果表決後的結果和自己想要的不同，不遵守也沒關係。
- () 當有同學在臨時動議中提出提議時，需先有其他同學附議，才會進行討論。
- () 選舉幹部時，只能同學間互相推選，不可以推薦自己競選幹部。

二、選擇題：

- () 下列哪一項不屬於「班級自治」活動？
 - 制定班級公約
 - 開班會
 - 參加演講比賽
 - 選舉班級幹部
- () 在班會中選舉班長時，表決程序需要遵守什麼規則？
 - 從任何一個開始都可以
 - 先提名先表決
 - 先提名後表決
 - 後提名先表決

三、請填入代號：

1. 開班會時，不同職務的人都有不同的工作，請把 A~F 的代號填入()中：

| | | |
|----------------|--------|--------|
| (A) 班級幹部 | (B) 主席 | (C) 司儀 |
| (D) 記錄 | (E) 老師 | (F) 同學 |
| () 負責主持會議 | | |
| () 班級幹部報告時發言 | | |
| () 宣布班會程序 | | |
| () 參與班會的討論與表決 | | |
| () 散會後進行指導 | | |
| () 寫下會議內容 | | |

2. 請依照開班會的順序，填入 1~6。

- () 提案討論：提案、討論、表決。
- () 臨時動議。
- () 班會開始，主席報告。
- () 班級幹部工作報告。
- () 散會。
- () 選出下次主席、司儀、記錄。

指出家庭消費與收入的關係，覺察儲蓄的重要性，體會儲蓄的價值與好處。

| | | | | | |
|------|------|--------|------|------|------|
| 評量標準 | 表現優異 | 表現良好 | 已經做到 | 還要加油 | 努力改進 |
| 答對格數 | 12格 | 11-10格 | 9~8格 | 7~6格 | 5格以下 |
| 評量結果 | | | | | |

一、配對合題：

安安上個月的收入支出項目如下：

| | |
|------------------|---------------|
| A. 吃早餐 600 元 | B. 發票中獎 500 元 |
| C. 買寶可夢卡 50 元 | D. 坐公車 350 元 |
| E. 媽媽給零用錢 1500 元 | F. 玩扭蛋 100 元 |
| G. 買洋芋片 48 元 | H. 買毛筆 80 元 |

請填入代號 A~H

1. 安安的「收入」有哪些？

答：() ()

2. 安安的「支出」有哪些？

答：() () () ()
() ()

3. 圈 圈 看，安安這個月剩下暫時不用錢可以做為：

(收入 / 支出 / 儲蓄)

二、選擇題：

1. () 下面哪一項不是儲蓄的方法？
 ①把零用錢存在撲滿
 ②向爸媽預借下個月的零用錢
 ③把壓歲錢存在郵局
 ④訂出存錢計畫

2. () 下面哪一項是家中的必要支出？
 ①名牌球鞋
 ②手搖飲料
 ③遊樂園門票
 ④水電費

3. () 下面哪一項不是儲蓄帶給我們的好處？
 ①累積財富
 ②有能力買金額較大的商品
 ③家人生病可以付醫藥費
 ④幫助銀行賺錢

能說出環境對生活的休閒方式造成的影響。

| | | | | | |
|------|------|--------|------|------|------|
| 評量標準 | 表現優異 | 表現良好 | 已經做到 | 還要加油 | 努力改進 |
| 答對格數 | 12格 | 11-10格 | 9~8格 | 7~6格 | 5格以下 |
| 評量結果 | | | | | |

一、是非題(對的打○，錯的打×)：

1. () 休閒活動不只可以用戶外場地，有些也能在室內進行。
2. () 休閒活動指的是在讀書或工作時，一邊做自己有興趣的活動。
3. () 場地的遠近不是從事休閒活動時要考慮的因素。
4. () 休閒活動不但可以放鬆心情、紓解壓力，還可能交到志同道合的朋友。
5. () 安排休閒活動不一定要花錢。
6. () 在家裡閱讀書籍不算是休閒活動。

二、填填看看：

週末彥銘想邀請家人一起去文化中心參加「作家有約」活動，哪些是他出發前主要應該考慮的事項？

(請在正確的□中打✓)





- ① 身高體重 ④ 時間安排
- ② 活動費用 ⑤ 交通路線
- ③ 參加人數 ⑥ 背包顏色

能確認地圖的方位，理解地圖上使用之標誌符號並找出標的物，並描述不同地方居民的生活方式。

| | | | | | |
|------|------|-------|------|------|------|
| 評量標準 | 表現優異 | 表現良好 | 已經做到 | 還要加油 | 努力改進 |
| 答對格數 | 11格 | 10-9格 | 8-7格 | 6-5格 | 4格以下 |
| 評量結果 | | | | | |

一、選擇題：

1. () 繪製地圖時，「深美國小」的位置應該由下列哪一個符號表示？

- ①  學
- ②  P
- ③ 
- ④ 

2. () 阿傑想要將自己繪製的地圖加上方向標，但需要先確認實際的方位，請問他應該使用什麼工具來確認？

① 手電筒 ② 指北針

③ 收音機 ④ 以上都適合。

3. 下面是喜樂國小的地圖：



(1) () 停車場在籃球場的哪個方向？

① 北方 ② 南方

③ 西方 ④ 東方。

(2) () 306 教室在籃球場的哪個方向？

① 西北方 ② 西南方

③ 東北方 ④ 東南方。

(3) () 301 教室在籃球場的哪個方向？

① 東北方 ② 西南方

③ 西北方 ④ 東南方。

背面還有題目

請翻頁繼續作答

二、配合題：

1. 樂樂家最近要搬家，他們參觀

了附近的兩個社區，分別是

大樹社區和花花社區：

| 社區名稱 | 大樹社區 | 花花社區 |
|-----------|--|---|
| 房屋類型 | 透天厝 | 高樓大廈 |
| 休閒場地種類與數量 | 3 座公園 2 個籃球場 1 座室外游泳池 | 1 間健身房 1 間視聽室 1 間圖書室 1 間桌球室 1 座室內游泳池 3 個社區中庭 |
| 車流量 | 4 輛/分 | 45 輛/分 |
| 商店類型與數量 | 食類：3 間 衣類：0 間 住類：0 間 行類：1 間 樂類：0 間 | 食類：48 間 衣類：3 間 住類：4 間 行類：3 間 樂類：2 間 |

★ 請根據表格和敘述，圈出正確的答案。

1. 【 大樹社區 / 花花社區 】

的生活機能比較好，購物比較方便。

2. 【 大樹社區 / 花花社區 】

上下班時間比較容易塞車。

3. 姊姊喜歡安靜的環境，她可能

比較想要住在

【 大樹社區 / 花花社區 】。

2. 這是基隆市政府的門牌：

| | |
|-------|-----|
| 中正區 | 義一路 |
| 郵 202 | 1 |

(1). () 「中正區」指的是 ① 行政區 ② 郵遞區號 ③ 街道名稱。

(2). () 「1」指的是 ① 行政區 ② 門牌號碼 ③ 郵遞區號。

(3). () 「義一路」指的是 ① 街道名稱 ② 郵遞區號 ③ 行政區。

恭喜你寫完考卷了！

請從頭再仔細檢查三遍👁👁

